

**NOM:** \_\_\_\_\_ **CURS 1r d'ESO** \_\_\_\_\_



Ha de realitzar la prova escrita.



Ha de realitzar el dossier d'activitats

L'alumnat amb la matèria de Ciències Socials ha de recuperar els continguts no assolits a la convocatòria de setembre. Per poder superar la matèria ha lliurar el dossier que s'adjunta amb totes les activitats emplenades de forma correcta i, el mateix dia, realitzar l'examen -segons calendari previst- de recuperacions.

El dossier d'activitats consta de tres tipus d'elements: (A) **vocabulari bàsic**; (B) **activitats pràctiques**; (C) **col·lecció de mapes**.

Per poder realitzar les activitats proposades és necessària el llibre de text de 1r d'Educació Secundària. Ciències Socials. Geografia i història (3vols) Ed. Anaya, Barcelona, 2010.

### **Criteris de recuperació i correcció**

- Per poder recuperar la matèria s'ha d'obtenir una qualificació igual o superior a cinc. La prova escrita suposarà el 40% de la nota final, el dossier d'activitats suposarà el 60% de la qualificació final. La prova escrita i el dossier d'activitats no poden tenir una nota inferior a tres.
- Es valorarà l'acurada presentació de les activitats, tant en l'ordre i la pulcritud com en l'adequat nivell ortogràfic.
- Les activitats han de ser contestades de la manera més completa, personal i reflexiva possible.

### **Instruccions.**

- El dossier s'iniciarà amb una portada i un índex de les activitats realitzades, tot mantenint la numeració indicada.
- L'examen consistirà en una selecció de qüestions, vocabulari i mapes procedents del mateix dossier de les activitats.
- Les qüestions que no poden ser auto-contestades directament al dossier i que, per tant s'han de lliurar ordenades per temes en fulls adjunts figuraran amb el

signe 

Treball. Vocabulari	20%	
Treball. Activitats	20%	
Treball. Mapes	10%	
Presentació.	10%	
Exam. Vocabulari	10%	
Exam. Activitats	20%	
Exam. Mapes	10%	
<b>Total</b>	<b>100%</b>	

El professor/a de 1r d'ESO

Ciutat, a 20/06/2013

## **A) Vocabulari bàsic. Defineix els següents noms, mots i conceptes** Al quadern

### **Instruccions:**

- Utilitza oracions plenes (S+V+Complements) que expliquin els conceptes geogràfics i històrics estudiats. Aporta, si cal, exemples o dibuixos propis.
- Els conceptes en **negreta (\*)** seran els que podran ser demanats a l'examen de setembre.

### **Tema 1.**

- 1.1. Galàxies (\*)**
- 1.2. Moviment de translació de la Terra (\*)**
- 1.3. Moviment de rotació de la Terra (\*)**
- 1.4. Paral·lel
- 1.5. Meridià
- 1.6. Latitud (\*)**
- 1.7. Longitud (\*)**

### **Tema 2.**

- 2.1. Litosfera (\*)**
- 2.2. Continents (\*)**
- 2.3. Illes
- 2.4. Orogènesi (\*)**
- 2.5. Altiplans
- 2.6. Depressions
- 2.7. Caps (\*)**
- 2.8. Golfs (\*)**
- 2.9. Penínsules (\*)**
- 2.10. Plataforma continental

### **Tema 3.**

- 3.1. Hidrosfera (\*)**
- 3.2. Marees (\*)**
- 3.3. Oceans
- 3.4. Marees
- 3.5. Curs d'un riu (\*)**
- 3.6. Cabal d'un riu (\*)**
- 3.7. Conca d'un riu (\*)**
- 3.8. Aqüífers (\*)**
- 3.9. Glaceres

### **Tema 4.**

- 4.1. Atmosfera (\*)**
- 4.2. Meteorologia
- 4.3. Climatologia
- 4.4. Precipitacions (\*)**
- 4.5. Pressió atmosfèrica (\*)**
- 4.6. Anticiclons
- 4.7. Borrasques
- 4.8. Sequeres
- 4.9. Biosfera (\*)**
- 4.10. Vegetació (\*)**

### **Tema 5.**

- 5.1. Selva (\*)**
- 5.2. Clima desèrtic (\*)**
- 5.3. Clima mediterrani (\*)**
- 5.4. Clima continental (\*)**
- 5.5. Clima polar

### **Tema 7**

- 7.1. Paleolític (\*)**
- 7.2. Neolític (\*)**
- 7.3. Bipedisme (\*)**
- 7.4. Homo sàpiens (\*)**
- 7.5. Vida nòmada o nomadisme (\*)**
- 7.6. Pintures rupestres
- 7.7. Vida sedentària o sedentarisme (\*)**
- 7.8. Creixent fèrtil.
- 7.9. Navetes
- 7.10. Talaiots

### **Tema 8.**

- 8.1. Messopotàmia (\*)**
- 8.2. Sumeris
- 8.3. Assiris
- 8.4. Patesi
- 8.5. Esclaus (\*)**
- 8.6. Politeisme (\*)**
- 8.7. Escriptura cuneïforme
- 8.8. Ziggurat (\*)**
- 8.9. Arc (arquitectura) (\*)**
- 8.10. Volta (arquitectura)

### **Tema 9.**


- 9.1. Riu Nil**
- 9.2. Faraó (\*)**
- 9.3. Escribes
- 9.4. Agricultura de regadiu (\*)**
- 9.5. Amon-Ra
- 9.6. Llibre dels morts
- 9.7. Vasos canopis (\*)**
- 9.8. Escriptura jeroglífica (\*)**
- 9.9. Hipogeu (arquitectura)
- 9.10. Piràmide (arquitectura) (\*)**

### **Tema 10.**

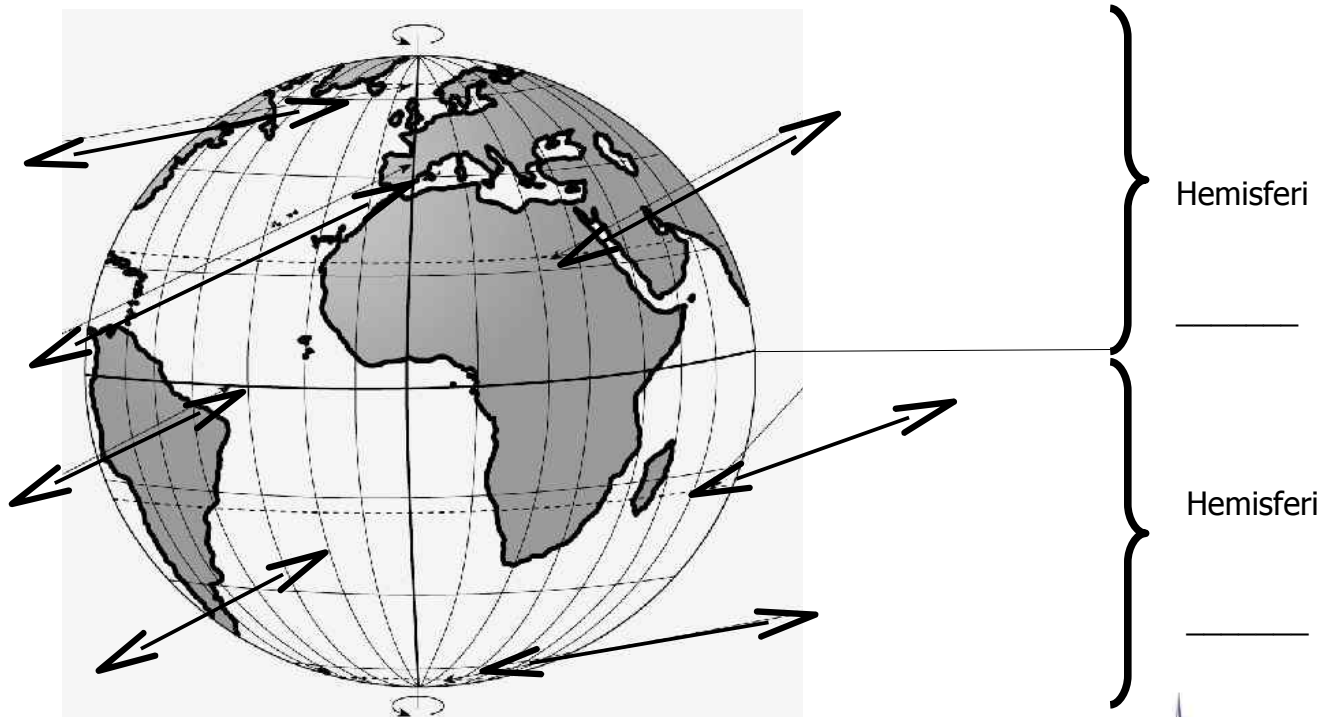
- 10.1. Hèl·lade
- 10.2. Polis (\*)**
- 10.3. Colònia o colonitzacions
- 10.4. Guerres mèdiques
- 10.5. Oligarquia (\*)**
- 10.6. Democràcia (a l'Atenes clàssica) (\*)**
- 10.7. Ciutadans
- 10.8. Àgora (\*)**
- 10.9. Acròpolis (\*)**
- 10.10. Canon (escultura)**

## B) ACTIVITATS.

### Tema 1. La Terra, un planeta singular


**ACTIVITAT 1.1.** Realitza al teu quadern les activitats 1, 2 i 3 de la pàgina 25 del teu llibre de text. *Activitat al quadern* 

**ACTIVITAT 1.2.** Indica al globus terraquí: un meridià, un paral·lel, el meridià de Greenwich, l'Equador, el Tròpic de Càncer, el Tròpic de Capricorn, l'hemisferi nord, l'hemisferi sud, el Cercle Polar Àrtic i el Cercle Polar Antàrtic.



#### Activitat 1.3

Dibuixa una rosa dels vents al teu quadern  i indica el punts cardinals.



#### Activitat 1.4

Consulta la pàgina 30 del teu llibre i contesta a les preguntes al teu quadern 

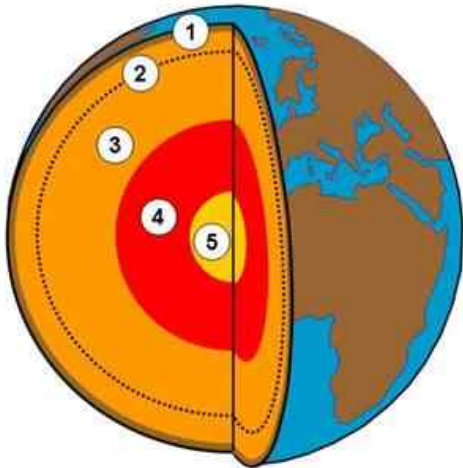
- Explica com es produeix la successió d'estacions a partir del moviment de translació.
- Entre quines línies es localitza cada zona tèrmica de la Terra?

**Activitat 1.5** -Completa el quadre amb la informació de la pàgina 30 del teu llibre.

	Moviment de translació	Moviment de rotació
Definició		
Duració		
Conseqüències		


## Tema 2. El relleu terrestre.

**Activitat 2.1.** Indica quina és l'estructura de la Terra a la imatge: nucli, mantell inferior, mantell superior, escorça



- 1 \_\_\_\_\_
- 2 \_\_\_\_\_
- 3 \_\_\_\_\_
- 4 \_\_\_\_\_
- 5 \_\_\_\_\_

**Activitat 2.2.** Realitza al teu quadern les activitats 2 i 4 de la pàgina 41 del teu llibre de text.

Al teu quadern de recuperació 

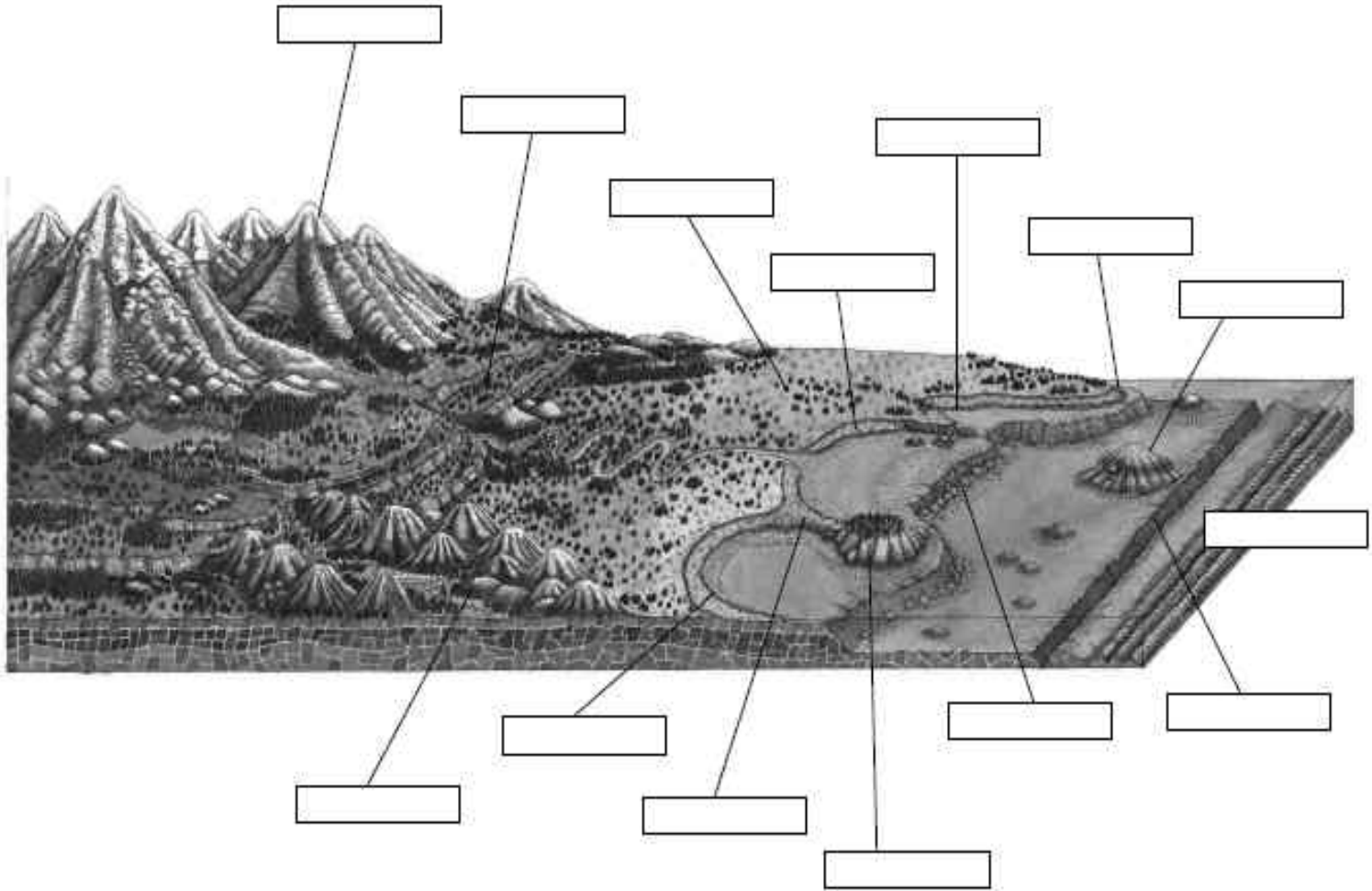
**Activitat 2.3.** Localitza els continents i els oceans.





**Activitat 2.4.** Completa el quadre amb la informació de la pàgina 44 del teu llibre

Agents externs que modifiquen el relleu	Agents interns que formen el relleu

**Activitat 2.5.** Observa la imatge de la pàgina 49 del teu llibre i completa el dibuix




**Activitat 2.6.** Realitza al teu quadern les activitats 1 i 2 de la pàgina 49 del teu llibre de text.  
(Al teu quadern de recuperació  )

**Activitat 2.7.** Realitza al teu quadern  l'activitat 5 de la pàgina 57 del teu llibre de text.


### Tema 3. La hidrosfera. L'aigua de la Terra.

**Activitat- 3.1.** Realitza al teu quadern  l'activitat 5 de la pàgina 61 del teu llibre de text.


**Activitat- 3.2.** Consulta la pàgina 62 del llibre i explica quines parts formen el curs d'un riu.  
Explica l'acció principal del riu en cada una d'aquestes parts. Al teu quadern 


**Activitat.- 3.3.** Completa cada definició amb la paraula adequada.


- Lloc per on flueixen les aigües d'un riu: \_\_\_\_\_.
- Riu que desemboca en un altre riu: \_\_\_\_\_:\_\_\_\_\_.
- Quantitat d'aigua que duu un riu: \_\_\_\_\_.
- Període de l'any en què el nivell del riu és més baix: \_\_\_\_\_.
- Dipòsit d'aigües subterrànies:\_\_\_\_\_.
- Grans masses d'aigua que circulen pels oceans:\_\_\_\_\_.
- Acumulació permanent d'aigua salada terra endins:\_\_\_\_\_.
- Pujades i baixades diàries del nivell del mar:\_\_\_\_\_.


**Activitat- 3.4.** Llegeix atentament els text de la pàgina 64 del teu llibre i realitza al teu quadern  les activitats 1, 2 i 7 de la pàgina 65 .

## Tema 4. Atmosfera, climes i biosfera

**Activitat 4.1** Realitza al teu quadern  l'activitat 3 de la pàgina 77 del teu llibre de text.

**Activitat 4.2.** Consulta atentament el mapa de la la pàgina 83 del teu llibre i realitza l'activitat 2 de la pàgina 82 . Al teu quadern de recuperació 

**Activitat 4.3.** Llegeix el text la pàgina 84 del llibre i realitza un resum dels principals riscos climàtics. Al teu quadern 

**Activitat 4.4.** Fes l'activitat número 4 i 5 de la pàgina 91 del teu llibre Al teu quadern 

## Tema 7. La vida a la prehistòria

**Activitat 7.1.** Ordena cronològicament els períodes històrics. (Pàgina 132)

-- EDAT MODERNA.	1	
-- EDAT ANTIGA.	2	
-- PREHISTÒRIA.	3	
-- PREHISTÒRIA.	4	
-- DAT MITJANA.	5	

Completa les frases amb els noms dels períodes històrics corresponents.

La \_\_\_\_\_ va començar quan es va inventar l'escriptura.

La \_\_\_\_\_ va començar amb la Revolució francesa.

La \_\_\_\_\_ va començar amb el descobriment d'Amèrica.

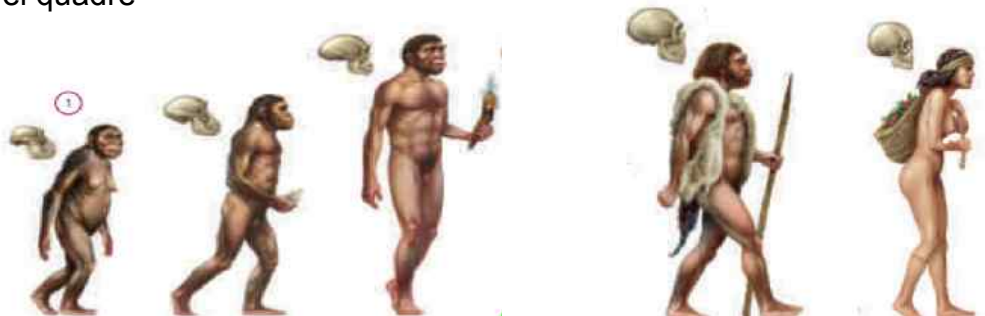
La \_\_\_\_\_ va començar amb l'aparició dels primers éssers humans

La \_\_\_\_\_ va començar amb la desaparició de l'Imperi romà

**Activitat 7.2.** Llegeix la pàg. 142 del llibre de text i respon les preguntes al teu quadern 


- Assenyala la data de l'inici i la data del final de la prehistòria.
- Quin fet assenyala l'inici de la prehistòria? Amb quin esdeveniment acaba?
- En quines etapes es divideix la prehistòria.
- Quant va aparèixer el paleolític i quant va finalitzar


**Activitat 7.3.** Completa el quadre



Espècie					
Va aparèixer					
Característiques					
Ubicació geogr.					




**Activitat 7.4** Realitza al teu quadern  les activitats 1 i 2 de la pàgina 146 del teu llibre de text.

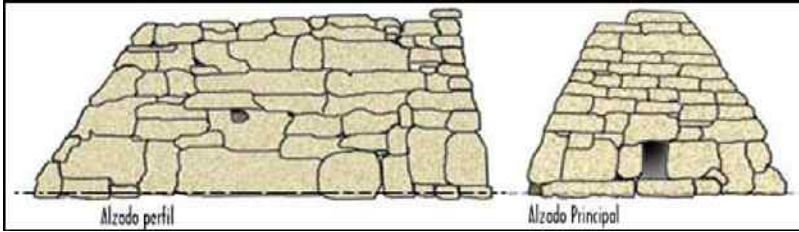
**Activitat 7.5** Llegeix la pàgina 150 del llibre i contesta les preguntes al teu quadern 

a) Quan va començar el neolític? Quin fet marca aquest inici?

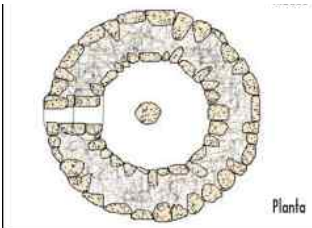
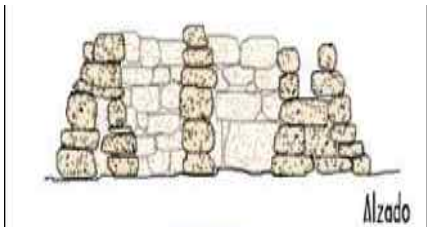
b) Quina és la relació que podem establir entre l'aparició de l'agricultura i el sedentarisme

**Activitat 7.6.** Realitza al teu quadern  les activitats 2 i 3 de la pàgina 151 del teu llibre.

**Activitat 7.8.** Consulta les pàgines 158 a 161 del teu llibre i completa la informació



- a) Quin nom reben aquest monuments? \_\_\_\_\_
- b) On es localitzen? \_\_\_\_\_ i \_\_\_\_\_
- c) De quin material està fet? \_\_\_\_\_
- c) En quina època es van construir? \_\_\_\_\_
- d) Per a què s'utilitzava? \_\_\_\_\_




- a) Quin nom reben aquest monuments? \_\_\_\_\_
- b) On es localitzen? \_\_\_\_\_ i \_\_\_\_\_
- c) De quin material està fet? \_\_\_\_\_
- c) En quina època es van construir? \_\_\_\_\_
- d) Per a què s'utilitzava? \_\_\_\_\_

**Activitat 7.9.** Consulta la pàgina 152 del teu llibre i realitza la pregunta 2. Al teu quadern 

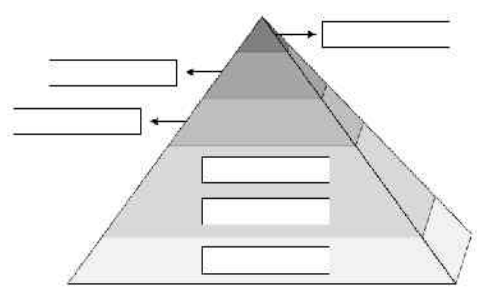
## Tema 8. Les civilitzacions fluvials. Mesopotàmia, terra entre rius.

**Activitat 8.1** Completa i dona color al mapa seguint la pàgina 169 del llibre



**Activitat 8.2.** Contesta les preguntes al teu quadern  (Consulta la pàg, 168 del llibre)


- a) Quines van ser les primeres grans civilitzacions fluvials que varen sorgir a la història ?
- b) Quan van sorgir?
- c) En quina etapa de la història van aparèixer?
- d) A quins rius es varen associar cada civilització?




**Activitat 8.3** Consulta la pàgina 172 del teu llibre. Dibuixa al teu quadern una piràmide com la del costat. Completa la piràmide amb els grups socials:


- artesans – aristocràcia – prínceps -
- funcionaris – pagesos – sacerdots – esclaus

**Activitat 8.4.** Realitza al teu quadern  un text per tal d'explicar com s'organitzaven les activitats econòmiques a Mesopotàmia (Consulta la pàgina 172 del teu llibre)

**Activitat 8.5.** Realitza les activitats 3, i 4 de la pàg. 180 del teu llibre de text. Al quadern 

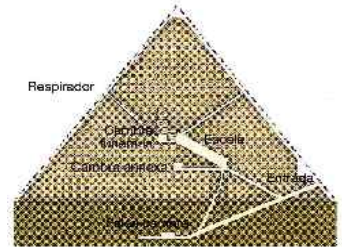
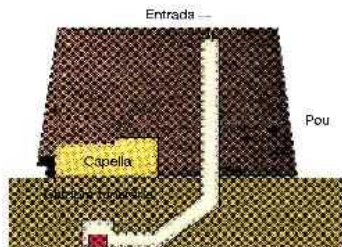
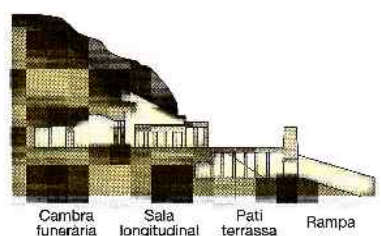
**Tema 9. Les civilitzacions fluvials. Egipte. La vida a la vora del Nil.**

**Activitat 9.1.** Explica al teu quadern  quin paper va jugar el Nil al desenvolupament de l'antic Egipte

**Activitat 9.2.** En les societats de les antigues civilitzacions es distingien una minoria de privilegiats i una gran majoria de no privilegiats. Descriviu al teu quadern  la societat egípcia.

**Activitat 9.3.** Realitza al teu quadern  l'activitat 3 de la pàgina 189 del teu llibre.

**Activitat 9.4.** Identifica el nom dels diferents tipus de tombes egípcies. Explica en que consistien i cita el nom d'alguns dels monuments més coneguts.




H _____	M _____	P _____

**Activitat 9.5.** Identifica amb els seus noms les principals divinitats egípcies.

--	--	--	--



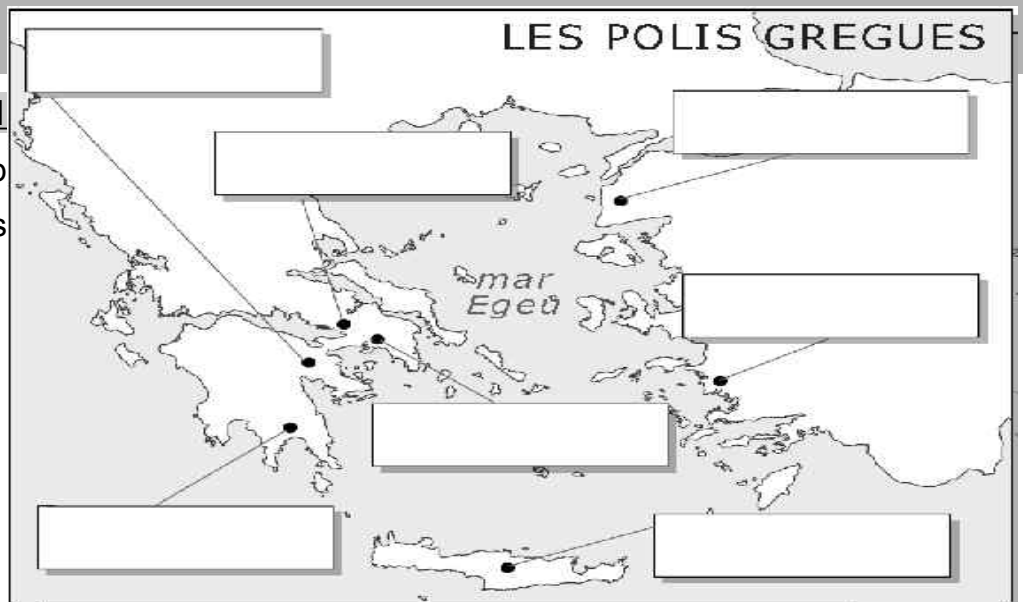
**Activitat 9.6.** Realitza l'activitat 1 i 2 de la pàgina 193 del teu llibre. Al teu quadern 




**Tema 10.**  
**La vida a Grècia**


**Activitat 10.1**

Completa el mapa amb els nom de les principals polis greges (pàgina 203)




**Activitat 10.2.**

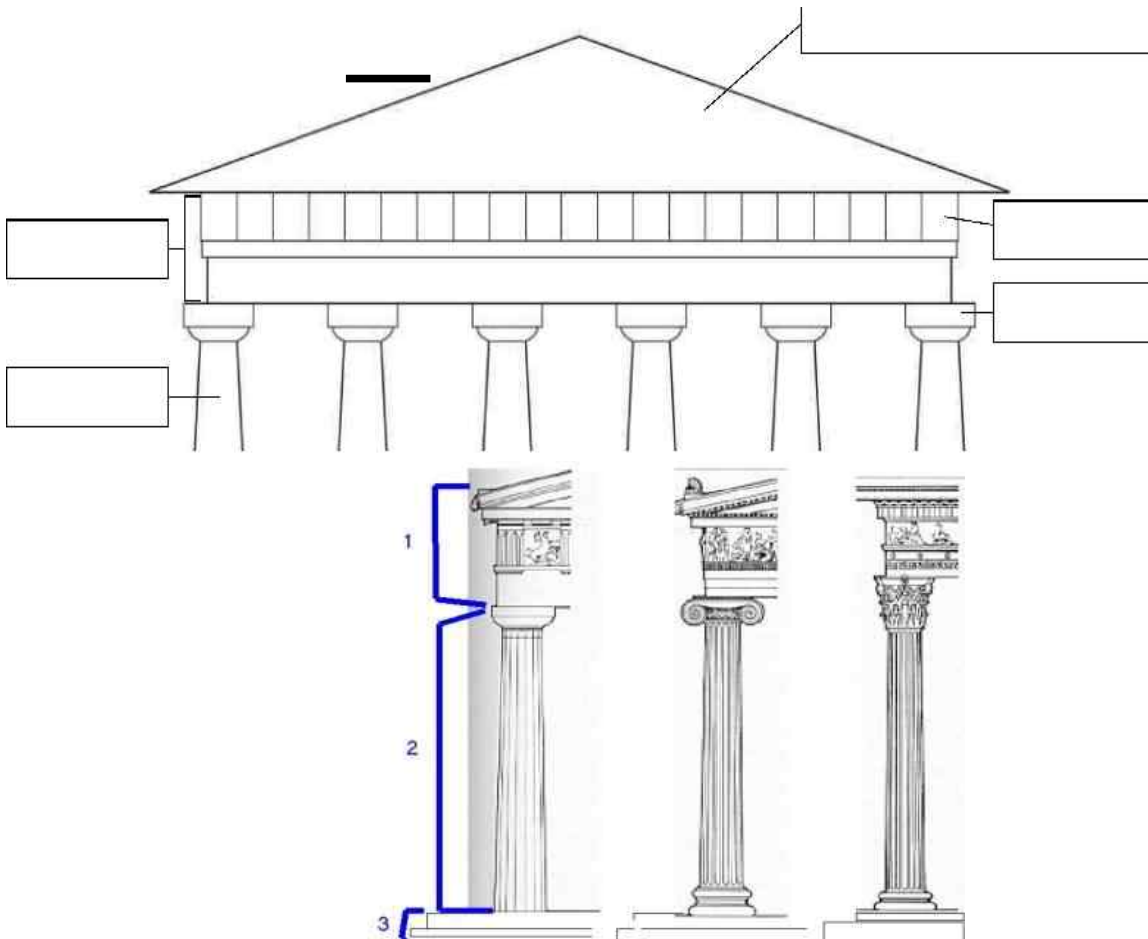
Redacta un resum sobre el sistema polític d'Atenes. La democràcia. 

**Activitat 10.3.** Cerca informació, en Internet o en una enciclopèdia sobre els següents personatge i escriu una breu biografia. Alexandre el Gran, Pericles, Sòcrates 

**Activitat 10.4.** Fes les activitats 1 i 2 de la pàgina 208 i 209. *Al teu quadern* 

**Activitat 10.5.** Fes les activitats 1, 2 i 5 de la pàgina 212. *Al teu quadern de recuperació* 

**Activitat 10.6.** Observa el dibuix de la pàgina 215 i anomena les parts visibles del temple grec i els principals elements dels ordres arquitectònics del temple grec.



Ordres: \_\_\_\_\_

## C. MAPES.

Completa els següents mapes.

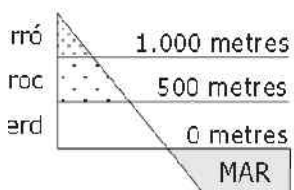
### 1. AMÈRICA



#### LOCALITZA.

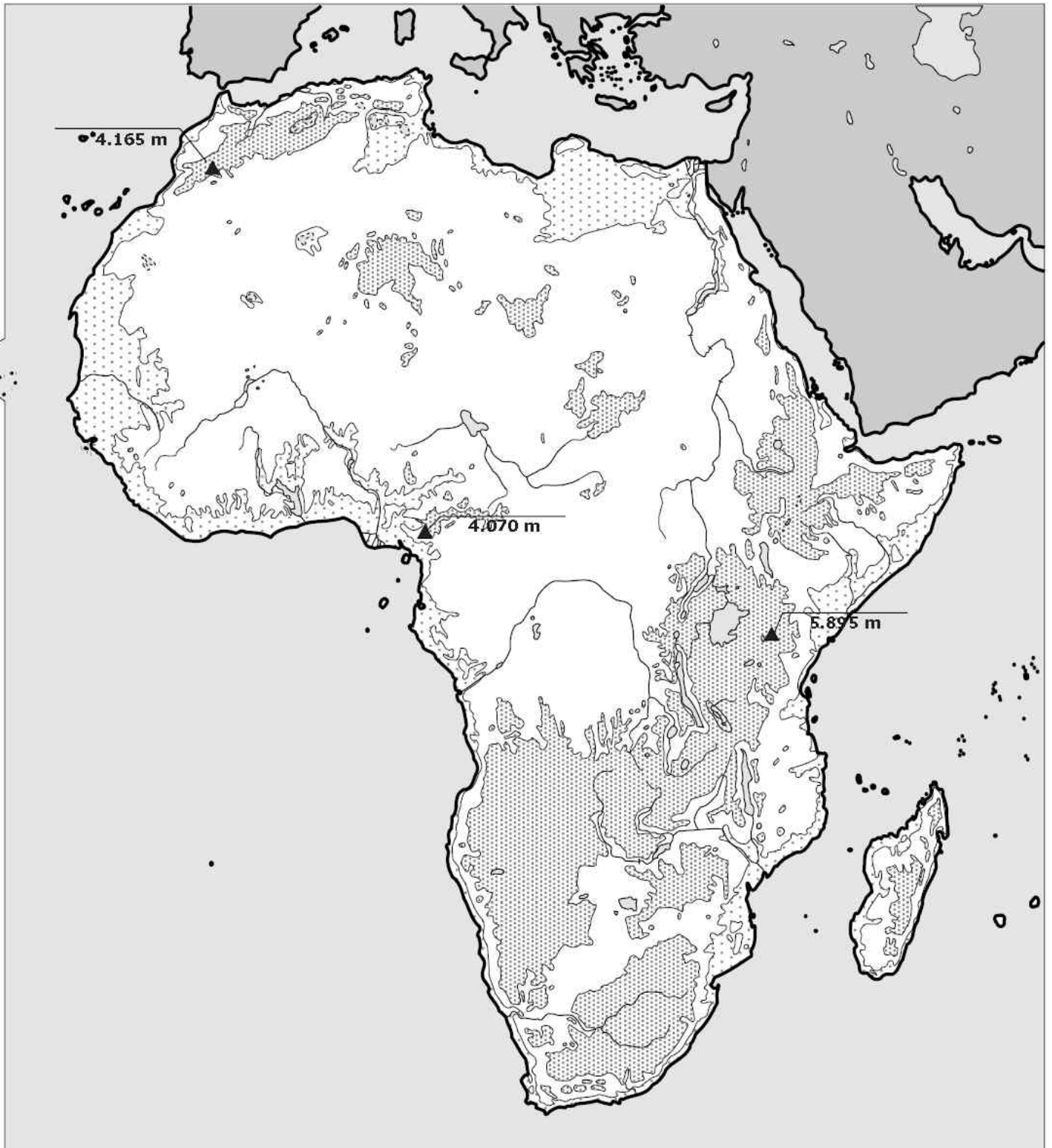
- Oceà Pacífic
- Península del Yucatan
- Oceà Atlàntic
- Golf de Mèxic
- Mar del Carib
- Serralada dels Apalatxes
- Península de Califòrnia
- Muntanyes Rocalloses
- Cap d'Hornos
- Serralada dels Andes
- Península de Califòrnia
- Riu Mississippí
- Arxipèlag de les Antilles
- Riu Amazones
- Illa La Espanyola
- Riu Riu de la Plata
- Illa Cuba
- La Pampa
- Illa de Jamaica
- Península d'Alaska

#### ALTIMETRIA (en metres)



— Cims

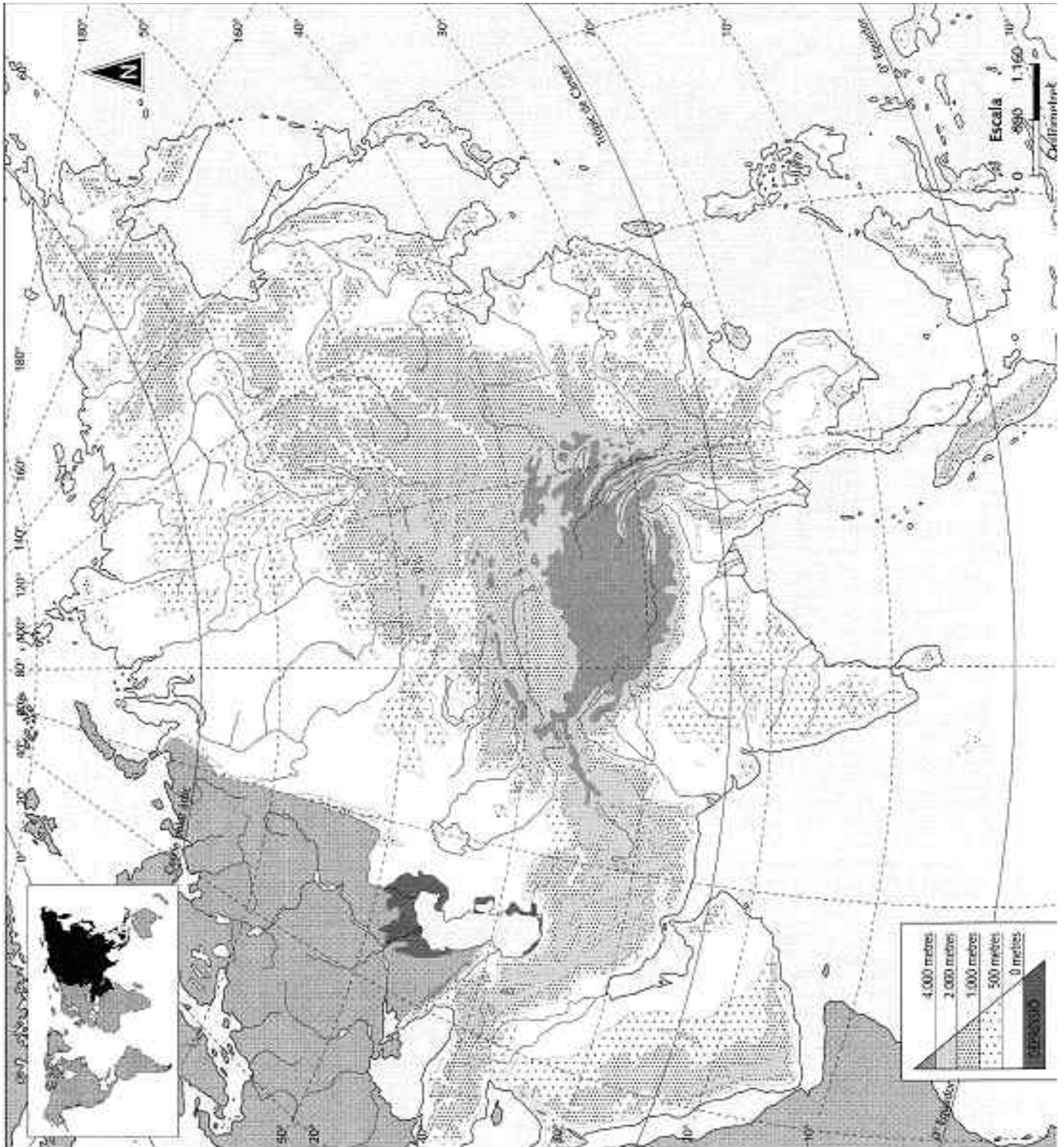
## 2. AFRICA



### LOCALITZA.

- |                         |                   |                        |
|-------------------------|-------------------|------------------------|
| - Mar Mediterrània      | - Riu Nil         | - Altiplà Africà       |
| - Mar Roja              | - Riu Congo       | - Llac Victòria        |
| - Oceà Atlàntic         | - Riu Níger       | - Llac Txad            |
| - Oceà Índic            | - Riu Senegal     | - Península de Somàlia |
| - Illa de Madagascar    | - Riu Nil         | - Illes Cap Verd       |
| - Golf de Guinea        | - Serralada Atlas | - Desert del Sahara    |
| - Cap de Bona Esperança | - Desert de Líbia |                        |

### 3. ÀSIA



#### LOCALITZA

- Oceà Índic
- Oceà Pacífic
- Oceà Glacial Àrtic
- Mar d'Aràbia
- Mar Roja
- Mar Càspia
- Mar Negra
- Arxipèlag del Japó
- Illes Filipines
- Península d'Aràbia
- Península de l'Hindustan
- Península d'Indo-Xina
- Península de Corea
- Serralada dels Ural
- Himàlaia
- Sibèria
- Riu Huang He
- Riu Iang Tse
- Golf Pèrsic
- Golf de Bengala
- Desert del Gobi
- P. de Kamchatka
- Caucas
- Riu Amur
- Riu Ganges

#### 4. EUROPA. Localitza al mapa

- OCEÀ ATLÀNTIC
- MAR DEL NORD
- MAR NEGRA
- MAR BÀLTICA
- MAR MEDITERRÀNIA
- MAR EGEA
- PENÍNSULA IBÈRICA
- PENÍNSULA ITÀLICA
- PENÍNSULA BALCÀNICA
- PENÍNSULA ESCANDINAVA
- PENÍNSULA DE JUTLÀNDIA
- R. EBRE
- R. DNIESTER
- I. CÒRSEGA
- I. SARDENYA
- I. BALEARS
- I. CRETA
- I. IRLANDA
- I. ISLÀNDIA
- ESTRET DE GIBRALTAR
- CANAL DE LA MÀNEGA
- R. TAJO
- R. LOIRA
- R. SENA
- R. PO
- R. DON
- PIRINEUS
- ALPS
- APENINS
- BALCANS
- S. ESCANDINAVA
- CARPATS
- PLANA BÀLTICA
- PLANA ATLÀNTICA
- R. RIN
- R. ODER
- R. VÍSTULA
- R. DANUBI
- R. VOLGA





## 5. ILLES BALEARS

### Localtza al mapa

MALLORCA

MENORCA

EIVISSA

FORMENTERA

CABRERA

SA DRAGONERA

S'ALBUFERA

BADIA D'ALCÚDIA

BADIA DE POLLENSA

BADIA DE PORTMANY

CAP DE FORMENTOR

CAP DE FERRUTX

CAP DE BARBARIA

CAP BLANC

CAP DE SES SALINES

CAP DE CAVALLERIA

SERRA DE TRAMUNTANA

SERRA DE LLEVANT

PUIG MAJOR

MASSANELLA

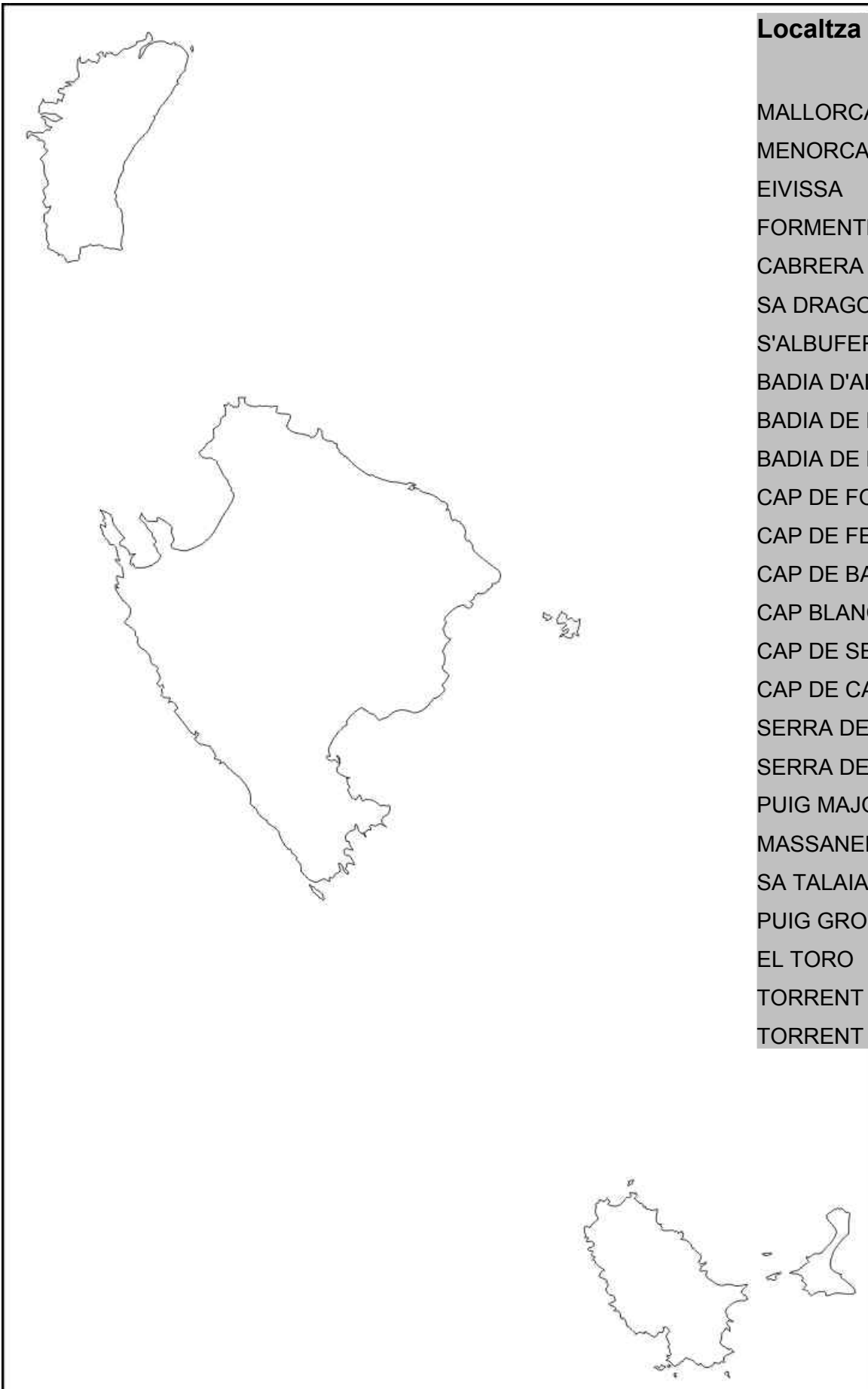
SA TALAIASSA

PUIG GROS

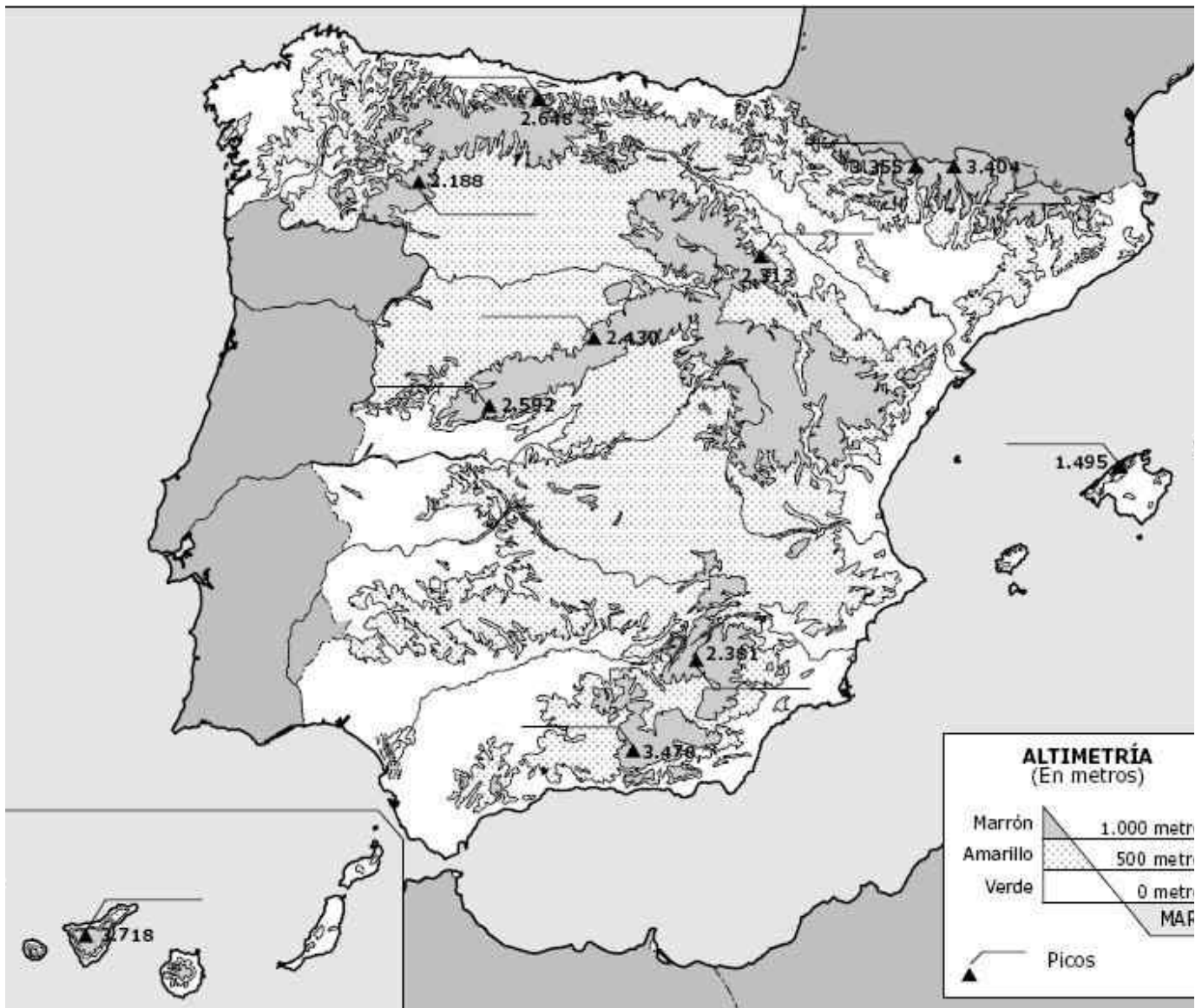
EL TORO

TORRENT DE MURO

TORRENT GROS



## 6. LA PENÍNSULA IBÈRICA



### Localitza al mapa

- OCEÀ ATLÀNTIC
- MAR MEDITERRÀNIEA
- MAR CANTÀBRICA
- GOLF DE CADIS
- ESTRET DE GIBRALTAR
- PIRINEUS
- SERRALADA CANTÀBRICA
- SISTEMA CENTRAL
- SERRALADA IBÈRICA
- SERRALADA PENIBÈTICA
- MESETA SEPTENTRIONAL
- MESETA MERIDIONAL
- TEIDE
- MULHACEN
- ANETO
- ILLES CANÀRIES
- ILLES BALEARS
- RIU GUADALQUIVIR
- RIU GUADALQUIVIR
- RIU GUADIANA
- RIU TAJO
- RIU DUERO
- RIU MIÑO
- RIU SEGURA
- RIU XUQUER
- RIU EBRE