

## Geografia i història

### Recuperació de Segon d'ESO.

NOM: _____ CURS 2n _____	
<input type="checkbox"/> Ha de realitzar la prova escrita.	<input type="checkbox"/> Ha de realitzar el dossier d'activitats

**Per poder recuperar la matèria no aprovada** l'alumnat s'ha de presentar a la realització d'una **prova escrita** el mes de setembre. Igualment ha de lliurar, el mateix dia de l'examen, **un dossier amb les activitats** de recuperació proposades.

La prova escrita suposarà el 50% de la nota (30% vocabulari i preguntes relacionades. 20% control de mapes); el dossier d'activitats suposarà el 50% de la qualificació (10% presentació, 10% mapes 20 % vocabulari, 20% altres activitats).

Per poder aprovar la matèria s'ha d'obtenir un qualificació igual o superior a cinc, i la prova escrita i el dossier d'activitats no poden tenir una nota inferior a 3'5.

- El dossier s'iniciarà amb una portada i un índex de les activitats realitzades.
- Es valorarà la correcta presentació de les feines, tant en l'ordre i la pulcritud com en l'adequat nivell ortogràfic.
- **Les activitats han de ser contestades de la manera més completa, personal i reflexiva possible.**
- La data de lliurament de les activitats encomanades i de realització de la prova escrita de recuperació serà el dia \_\_\_\_\_ de setembre de 2012.

El professor responsable:

Palma, 18 de juny de 2012

Treball. Vocabulari	20%	
Treball. Activitats	30%	
Presentació.	10%	
Examen de vocabulari	10%	
Examen d'activitats	30%	
<b>Total</b>	<b>100%</b>	

## A. VOCABULARI BÀSIC

### Defineix correctament els següents conceptes i noms.

\* Realitza les definicions de manera completa i amb oracions correctament construïdes.

\*\* Els conceptes en negreta seran els que has d'estudiar per l'examen

#### Tema 1.

- **Bàrbars.**
- Pobles germànics
- **Imperi Bizantí**
- Justinià
- **Mahoma**
- **Musulmà**
- Hègira
- Carlemany

#### Tema 2.

- **Feudalisme**
- **Feu**
- Noblesa
- **Clergat**
- Pagesos
- **Delme**
- Guaret

#### Tema 3.

- **Heretgia.**
- **Croades**
- **Art romànic**
- Catedral
- **Planta de creu llatina**

#### Tema 4.

- **Rotació triennal de conreus**
- Calls o jueries
- **Burgès**
- **Gremi**
- Obra mestra

#### Tema 5

- **Art gòtic**
- **Arc ogival**
- Rosassa
- Vidriera
- **Timpà**

#### Tema 6.

- **Al-Àndalus**
- Taifes
- Emir
- Califa
- **Mesquita**
- **L'Alhambra**

#### Tema 7.

- **Reconquesta**
- Repoblament
- Cartes de poblament
- **Transhumants**
- Repartiment

#### Tema 8.

- Caravel·la
- **Cultures precolombines**
- Asteques
- **Inques**
- Maies
- Imperis ultramarins

#### Tema 9.

- **Pesta negra**
- Burgesia
- **Burocràcia**
- Unió dinàstica
- **Judeoconversos**

#### Tema 10

- Humanisme
- **Gutenberg**
- **Leonardo da Vinci**
- **Reforma luterana**
- **La Inquisició**

#### Temes 11 i 12

- **Carles I**
- **Felip II**
- Pau d'Augsburg
- **Germanies**
- **Morisc**

#### Tema 14 .

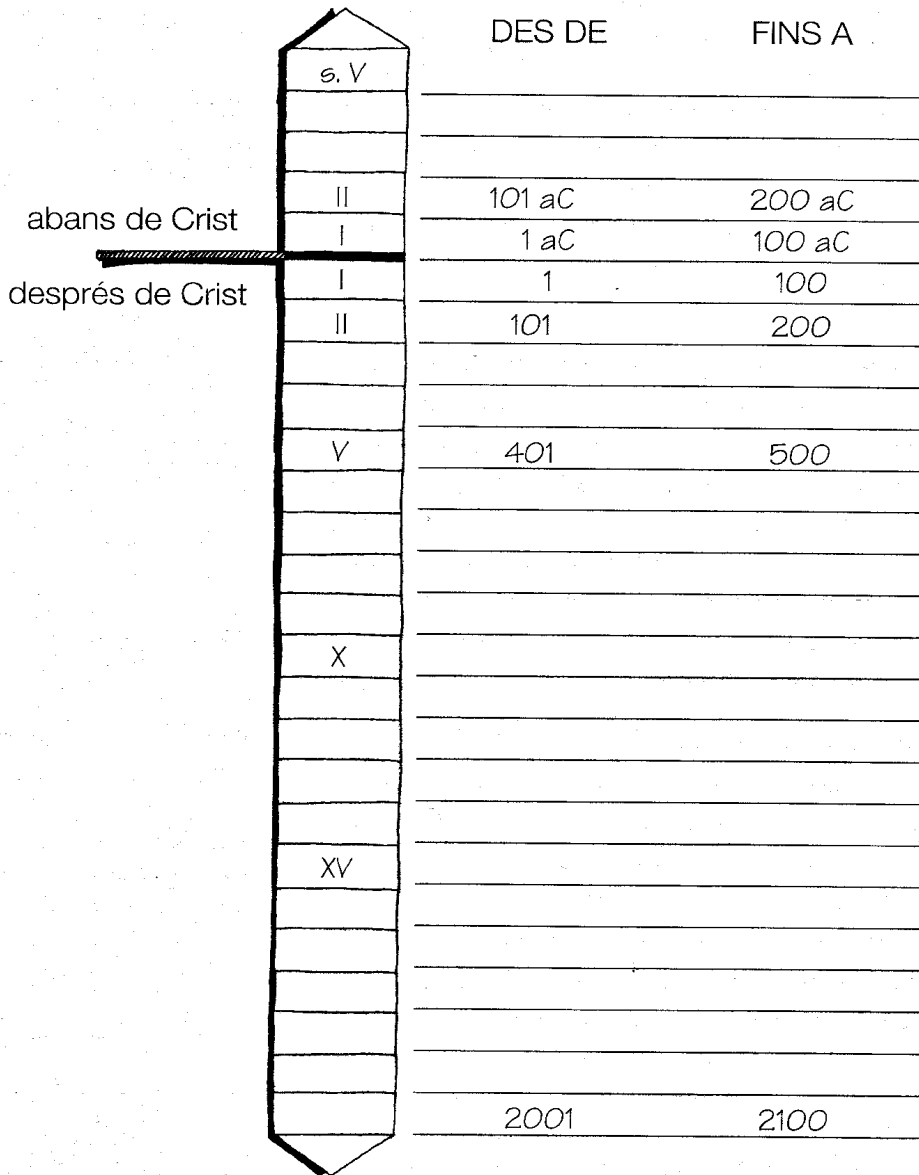
- **Explosió demogràfica**
- **Densitat de població**
- Taxa de natalitat
- Taxa de fecunditat
- Taxa de mortalitat
- **Esperança de vida**

**B. ACTIVITATS**

**ELS SEGLES**

Un segle és un període de cent anys. Els segles s'escriuen amb xifres romanes i es compten, com els anys, des del naixement de Crist cap endavant i cap enrere.

► Completa l'esquema. Escribe els segles que falten i els anys que abraça cada segle.



► Respon les preguntes.

- En quin segle estem? \_\_\_\_\_
- En quin segle vas néixer? \_\_\_\_\_
- De quin any a quin any abraça el segle xx? \_\_\_\_\_
- Fa 500 anys, quin segle era? \_\_\_\_\_
- Fa 1.000 anys, quin segle era? \_\_\_\_\_

**1.- Ordena cronològicament els períodes històrics.**

EDAT MODERNA.  
EDAT ANTIGA.  
PREHISTÒRIA.  
EDAT CONTEMPORÀNIA.  
EDAT MITJANA.

1	
2	
3	
4	
5	

**2.- Completa les frases amb els noms dels períodes històrics corresponents.**

La \_\_\_\_\_ va començar quan es va inventar l'escriptura.

La \_\_\_\_\_ va començar amb la Revolució francesa.

La \_\_\_\_\_ va començar amb el descobriment d'Amèrica.

La \_\_\_\_\_ va començar amb l'aparició dels primers éssers humans

La \_\_\_\_\_ va començar amb la desaparició de l'Imperi romà

**TEMA 1. L'inici de l'Edat Mitjana.**

**Act. 1.1.-** Completa els següents quadres amb la informació fonamental de cada una de les civilitzacions estudiades.

**- Els regnes germànics:**

<b>POLÍTICA</b> (Qui té el poder i com s'organitza)	<b>ECONOMIA</b> (Quines són les activitats econòmiques, a què es dedica la població)	<b>SOCIETAT</b> (En quins grups socials es divideix la població)	<b>CULTURA</b> (Llengua, religió, art)


**- L'Imperi Bizantí:**

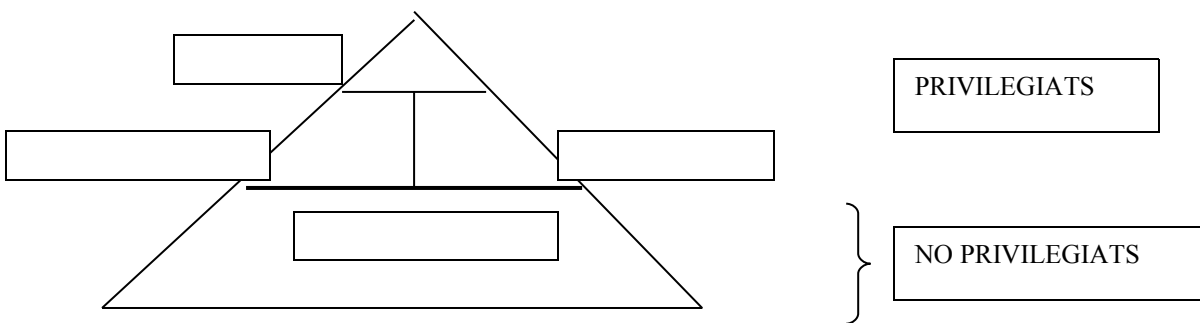
<b>POLÍTICA</b> (Qui té el poder i com s'organitza)	<b>ECONOMIA</b> (Quines són les activitats econòmiques, a què es dedica la població)	<b>SOCIETAT</b> (En quins grups socials es divideix la població)	<b>CULTURA</b> (Llengua, religió, art)


**- L'Islam:**

<b>POLÍTICA</b> (Qui té el poder i com s'organitza)	<b>ECONOMIA</b> (Quines són les activitats econòmiques, a què es dedica la població)	<b>SOCIETAT</b> (En quins grups socials es divideix la població)	<b>CULTURA</b> (Llengua, religió, art)

**TEMA 2. La societat feudal**

**ACT. 2. 1.-** Copia al teu quadern  i completa la següent piràmide amb els grups de la societat feudal.



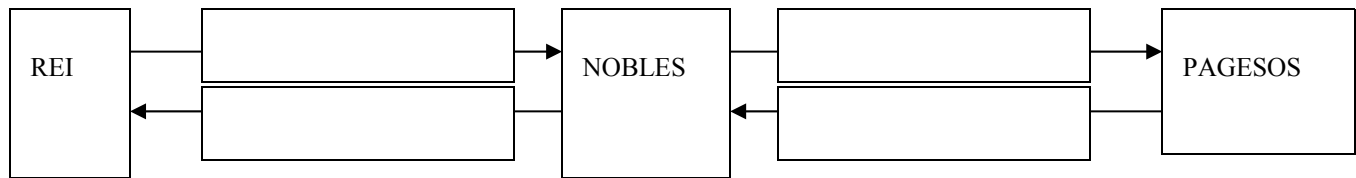
**ACT 2.2.-** Explica al teu quadern  a què es dedicaven i on vivien cada un dels estaments de la societat feudal: Noblesa, - Clergat, - Pagesos

**ACT 2.3.-** Explica quina diferència hi havia entre pertànyer a una classe privilegiada i a una no

privilegiada. **al teu quadern** 

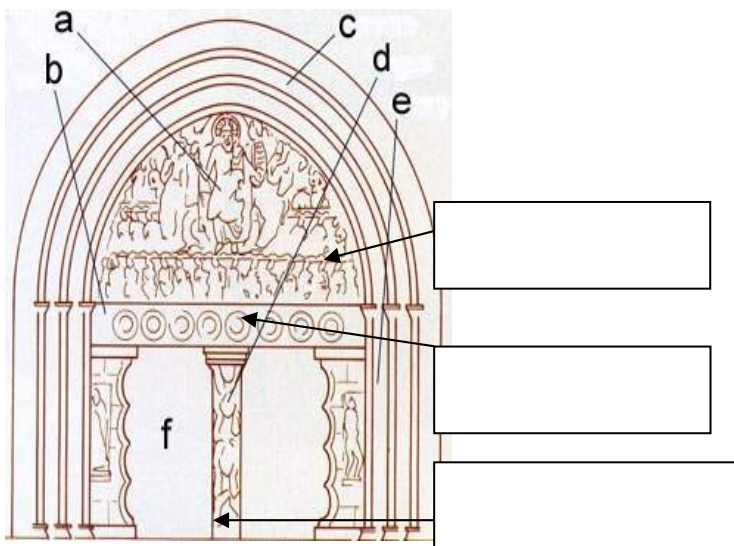
**ACT 2.4.**- Copia i completa **al teu quadern**  el següent esquema sobre les relacions de vassallatge amb les paraules del quadre:

Concedeixen protecció, li paguen rendes, concedeix un feu, juren fidelitat



**TEMA 3 i 5. L'art a l'Època Medieval. L'Art Romànic i l'Art Gòtic.**

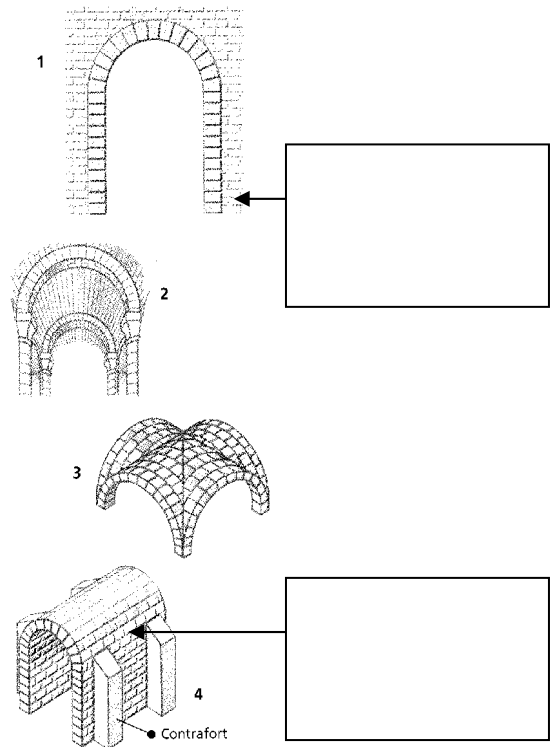
**ACT 3. 1.**- Escriu als buits el nom dels elements arquitectònics que s'indiquen al quadre de sota.



[Empty box for label 'a']

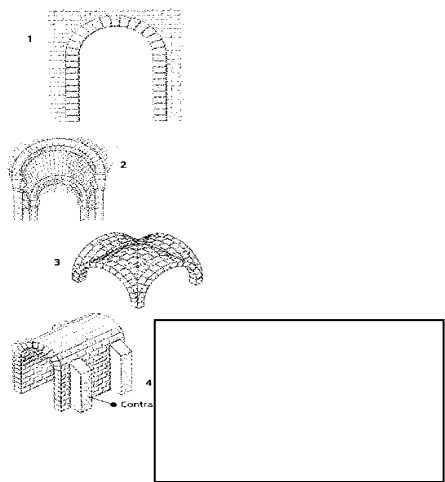
[Empty box for label 'b']

[Empty box for label 'c']

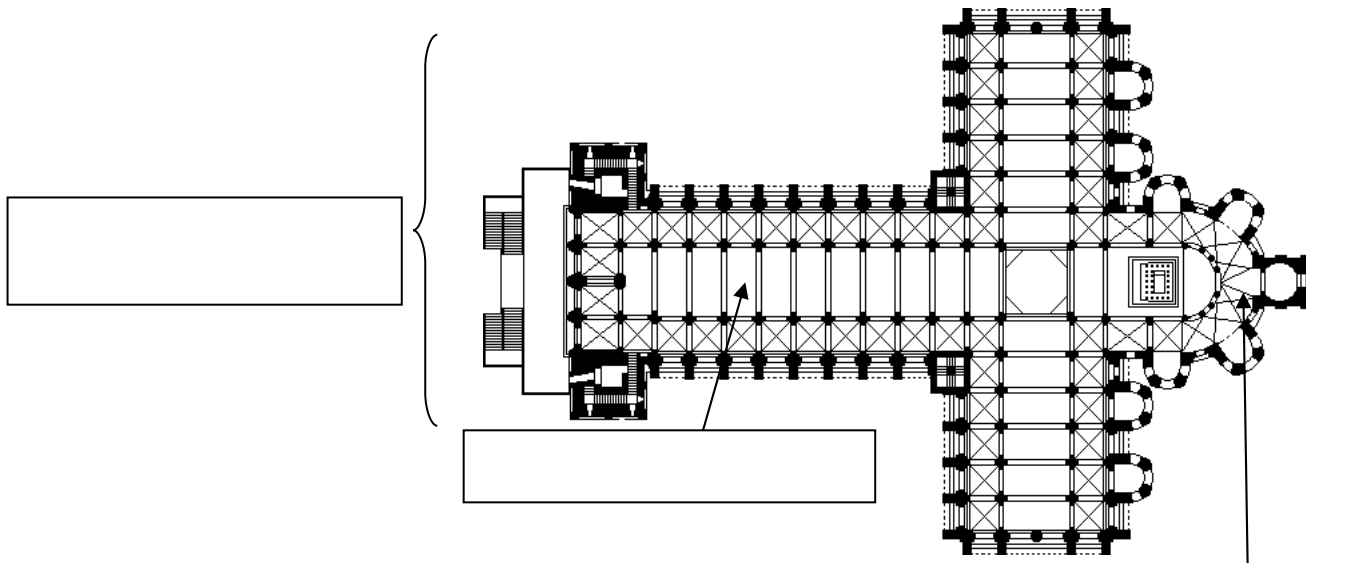


[Empty box for diagram 1]

[Empty box for diagram 4]



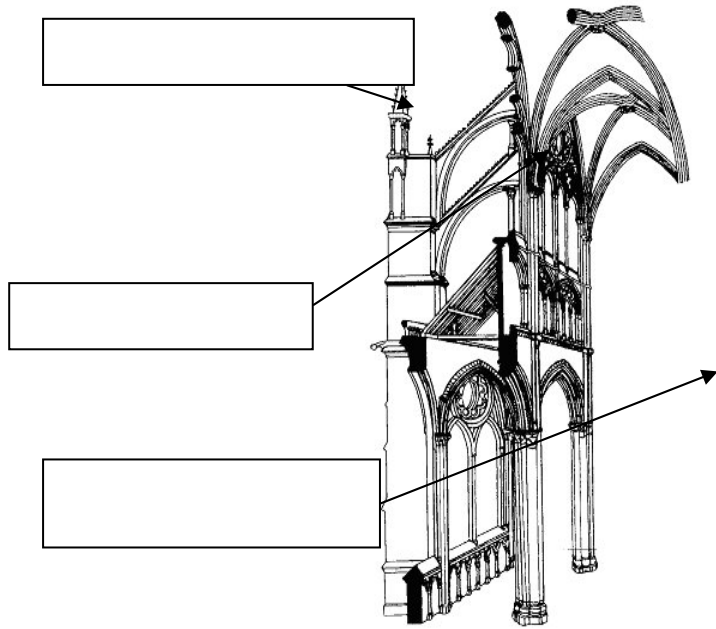
[Empty box for diagram 4]



[Empty box for labeling]

[Empty box for labeling]

[Empty box for labeling]



[Empty box for labeling]


[Empty box for labeling]

[Empty box for labeling]


[Empty box for labeling]


[Empty box for labeling]

[Empty box for labeling]



Arc de mig punt,    arc ogival,    trencallum,    timpà,    contrafort,  
 volta de canó,    rosassa,    cuculla,    pilar,    arcbotant,    nau principal,  
 girola,    planta de creu llatina,    pinacle,    volta de creueria,    arquivoltes.

**ACT. 3.2.-** Escriu tres diferències entre l'escultura romànica i la gòtica. Al teu quadern 

**ACT. 3.3.-** Escriu tres diferències entre la pintura romànica i gòtica. Al teu quadern 

#### **TEMA 4. El reviscolament de les ciutats.**


**ACT. 4.1.-** Contesta al teu quadern  les següents preguntes

- a.- Per què augmenta la producció agrícola a mitjans del segle XII a Europa?
- b.- Quines foren les causes del creixement de les ciutats en aquesta època?
- c.- Com s'organitzaven els tallers artesanals? Quines categories de treballadors i hi havia? En què es diferenciaven?

#### **TEMA 6: Al-Àndalus.**


**ACT 6.1.-** Copia i completa al teu quadern  el quadre cronològic de la pàg. 90 Ex. 20

#### **TEMA 7: Els regnes cristians hispànics**


**ACT 7.1.-** Completa al teu quadern  els quadres cronològics del llibre de la pàgina 114 Ex. 32

**ACT 7.2.-** Completa al teu quadern  l'esquema del llibre de la pàg. 116 Ex. 4

#### **TEMES 8 i 9: EL COMENÇAMENT DE L'EDAT MODERNA**


**ACT 8.1.-** Compara la situació al final de l'edat mitjana i al començament de l'edat moderna. Fes el quadre resum del llibre de la pàg. 138. Ex. 12 al teu quadern 

#### **TEMA10: EL CANVI CULTURAL: RENAIXEMENT I REFORMA**

**ACT. 10.1.-** Compara l'Humanisme, el Renaixement i la Reforma. Fes el quadre resum del llibre de la pàgina 155. Ex. 22. Al teu quadern 

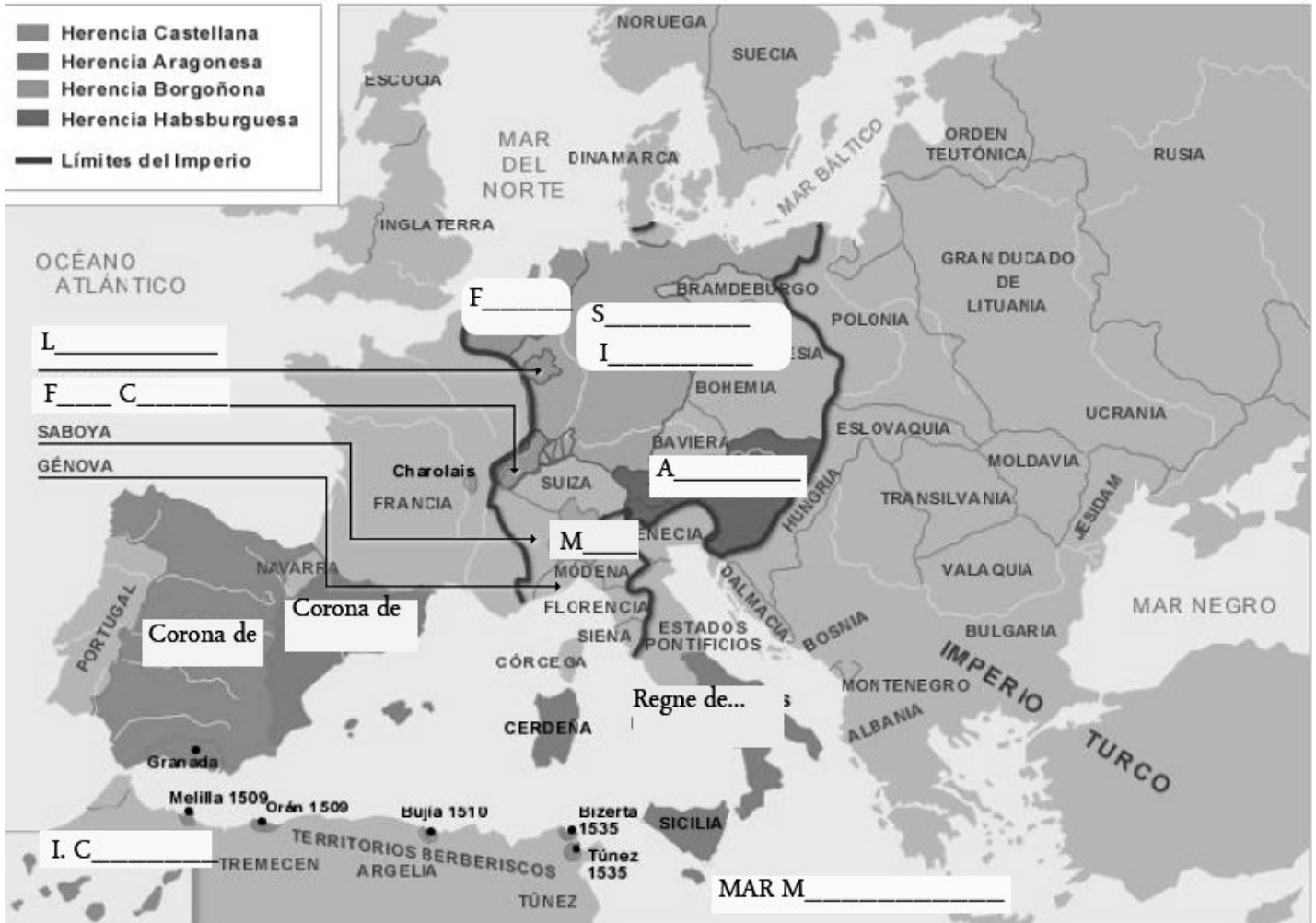
**ACT. 10.2.-** Compara l'art del Quattrocento i del Cinquecento i les diferents religions que hi havia a Europa a la primera del segle XVI. Fes els quadres resum del llibre de la pàg. 155 Ex. 23.



Al teu quadern 

**TEMES 11 i 12: EL SEGLE XVI I EL SEGLE XVII**

**ACT. 11.1-** Completa el mapa amb els territoris heretats per Carles V.



**ACT. 11.2-** Contesta a les preguntes al teu quadern 

- Quins eren els objectius de Carles V a Europa?
- Els va aconseguir? Per què?
- Quins varen ser els principals problemes del regnat de Felip V?

**ACT. 11.3-** Contesta a les preguntes al teu quadern 

- Quines varen ser les causes de les Germanies al regne de Mallorca.
- Com es va desenvolupar el conflicte a la illa de Mallorca.

**ACT. 12.1-** Contesta a les preguntes al teu quadern 

- Explica quines són les causes de la disminució de la població espanyola al segle XVII.
- Comenta com va ser la crisi agrícola del segle XVII a Espanya

## TEMA 14: LA POBLACIÓ DEL MÓN

1

**ACT 14. 1** – Explica quines són les condicions físiques favorables a la població **al teu quadern** 

**ACT 14. 2** – Completa observant el tema 14 del teu llibre que ens indiquen i com es calculen els següents indicadors demogràfics:

	Què és?	Com es calcula?
<b><u>DENSITAT DE POBLACIÓ</u></b>		


	Què és?	Com es calcula?
<b><u>TAXA BRUTA DE NATALITAT</u></b>		

	Què és?	Com es calcula?
<b><u>TAXA DE FECUNDITAT</u></b>		

	Què és?	Com es calcula?
<b><u>TAXA BRUTA DE MORTALITAT</u></b>		

**ACT. 14. 3.** Assenyala com s'expliquen les diferències a la natalitat i a la fecunditat.

**Al teu quadern** 

**ACT. 14. 4.** Realitza **al teu quadern**  les activitats 23, 24 i 25 de la pàgina 226 del teu llibre